

15!

# GRATIS OEFENBLADEN REKENEN

---

Rekenen voor groep 5

[www.buroleerlingenhulp.nl](http://www.buroleerlingenhulp.nl)



© Buro leerlingenhulp, Den Haag  
Alle rechten voorbehouden. Niets uit deze uitgave mag worden verveelvoudigd, opgeslagen in een geautomatiseerd gegevensbestand, of openbaar gemaakt, in enige vorm of op enige wijze, hetzij elektronisch, mechanisch, door fotokopieën, opnamen, of enige andere manier, zonder voorafgaande schriftelijk toestemming van de uitgever.

Werkbladen rekenen groep 5 (lees dit voor je begint met oefenen!)

Dit pdf-bestand bevat gratis werkbladen van [www.buroleerlingenhulp.nl](http://www.buroleerlingenhulp.nl)

In groep 5 komen verschillende rekenonderdelen aan bod. Een belangrijke basis voor rekenen in groep 5 is het goed kunnen maken van optelsommen en minsommen.

In deze werkbladen komen sommen uit het onderdeel 'optellen en aftrekken' en uit het onderdeel 'verhoudingen' voor.

Deze werkbladen bevatten ook zogenaamde 'redactiesommen'.

In de Cito-toetsen voor groep 5 zijn ook veel van dit soort verhaaltjessommen opgenomen.

Veel succes met oefenen!

Wil je op de hoogte blijven van nog meer leuke downloads? Zie dan onze social media @buroleerlingenhulp



[www.buroleerlingenhulp.nl](http://www.buroleerlingenhulp.nl)

## Honderdtallen en tientallen optellen die over het honderdtal gaan

$$570 + 64 =$$

$$830 + 88 =$$

$$550 + 43 =$$

$$720 + 96 =$$

$$850 + 79 =$$

$$410 + 99 =$$

$$870 + 54 =$$

$$280 + 27 =$$

$$280 + 16 =$$

$$360 + 43 =$$

$$130 + 88 =$$

$$820 + 97 =$$

$$450 + 99 =$$

$$950 + 72 =$$

$$580 + 89 =$$

$$260 + 570 =$$

$$670 + 170 =$$

$$130 + 190 =$$

$$880 + 290 =$$

$$740 + 190 =$$

## Erafsommen tot 1000

$$86 - 11 =$$

$$81 - 2 =$$

$$33 - 7 =$$

$$67 - 37 =$$

$$38 - 36 =$$

$$790 - 26 =$$

$$740 - 38 =$$

$$337 - 119 =$$

$$267 - 174 =$$

$$878 - 387 =$$

$$888 - 867 =$$

$$723 - 360 =$$

$$450 - 99 =$$

$$950 - 72 =$$

$$580 - 89 =$$

$$560 - 533 =$$

$$670 - 171 =$$

$$562 - 199 =$$







$$880 - 296 =$$

$$740 - 192 =$$

# Klokkijken


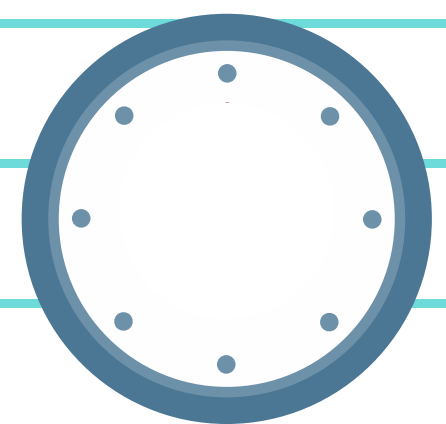

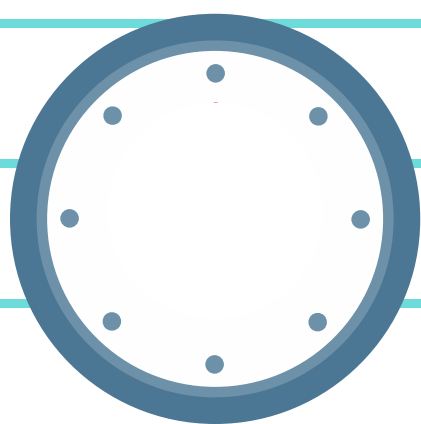
Hoe laat is het als het

s'ochtends/s'middags of s'avonds is?



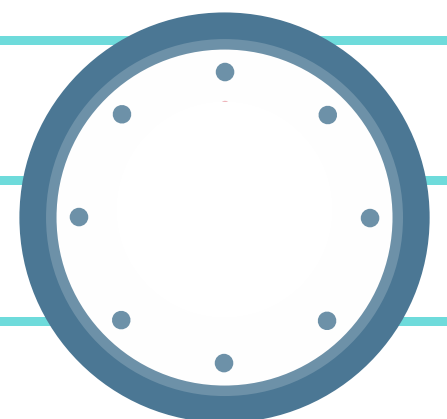

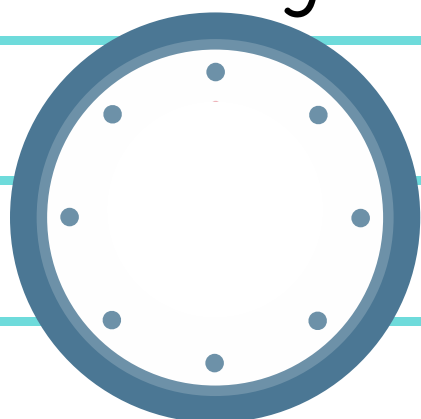
Het is half drie  
s'middags

Het is twintig over twee  
s'nachts



Het is tien voor twee  
s'middags

kwart voor acht  
s'ochtends



## Redactiesommen

1) Fatima en Laura gaan zwemmen. Ze hebben al 17 minuten gezwommen. Ze zwemmen daarna nog 44 minuten. Hoelang hebben ze in totaal gezwommen?

2) Kim is aan het winkelen met Sara. Ze geven in totaal 136 euro uit. Later besluit Kim om een shirt van 20 euro en een rokje van 16 euro terug te brengen. Hoeveel euro hebben Kim en Sara nu in totaal uitgegeven?

3) Daan verkoopt Limonade. Op maandag zijn 48 glazen Limonade verkocht. Op dinsdag zijn er 27 verkocht. Hoeveel glazen Limonade zijn er in totaal verkocht?

4) Op tafel staat een kan met 2 liter water. Na 6 glazen is de kan leeg. Na hoeveel glazen zou de kan leeg zijn als er 4 liter water in zou zitten?

# Antwoorden

## Pagina 1

| eerste rij: | tweede rij: | derde rij: | vierde rij: |
|-------------|-------------|------------|-------------|
| 634         | 509         | 218        | 830         |
| 918         | 924         | 917        | 840         |
| 593         | 307         | 549        | 320         |
| 816         | 296         | 1022       | 1170        |
| 929         | 403         | 669        | 930         |

## Pagina 2

| eerste rij: | tweede rij: | derde rij: | vierde rij: |
|-------------|-------------|------------|-------------|
| 75          | 714         | 21         | 33          |
| 79          | 702         | 363        | 499         |
| 26          | 218         | 351        | 463         |
| 30          | 93          | 878        | 684         |
| 2           | 491         | 491        | 548         |

## Pagina 3

|               |                |               |
|---------------|----------------|---------------|
| 15:30 of 3:30 | 18:51 of 6:51  | 21:30 of 9:30 |
| 15:25 of 3:25 | 23:42 of 11:42 | 18:02 of 6:02 |

## Pagina 4

1) Ze hebben 61 minuten gezwommen, dus 1 uur en 1 minuut in totaal.

2) Ze hebben 100 euro in totaal uitgegeven

3) Hij heeft in totaal 75 glazen verkocht

4) Het zal na 12 glazen leeg zijn.